





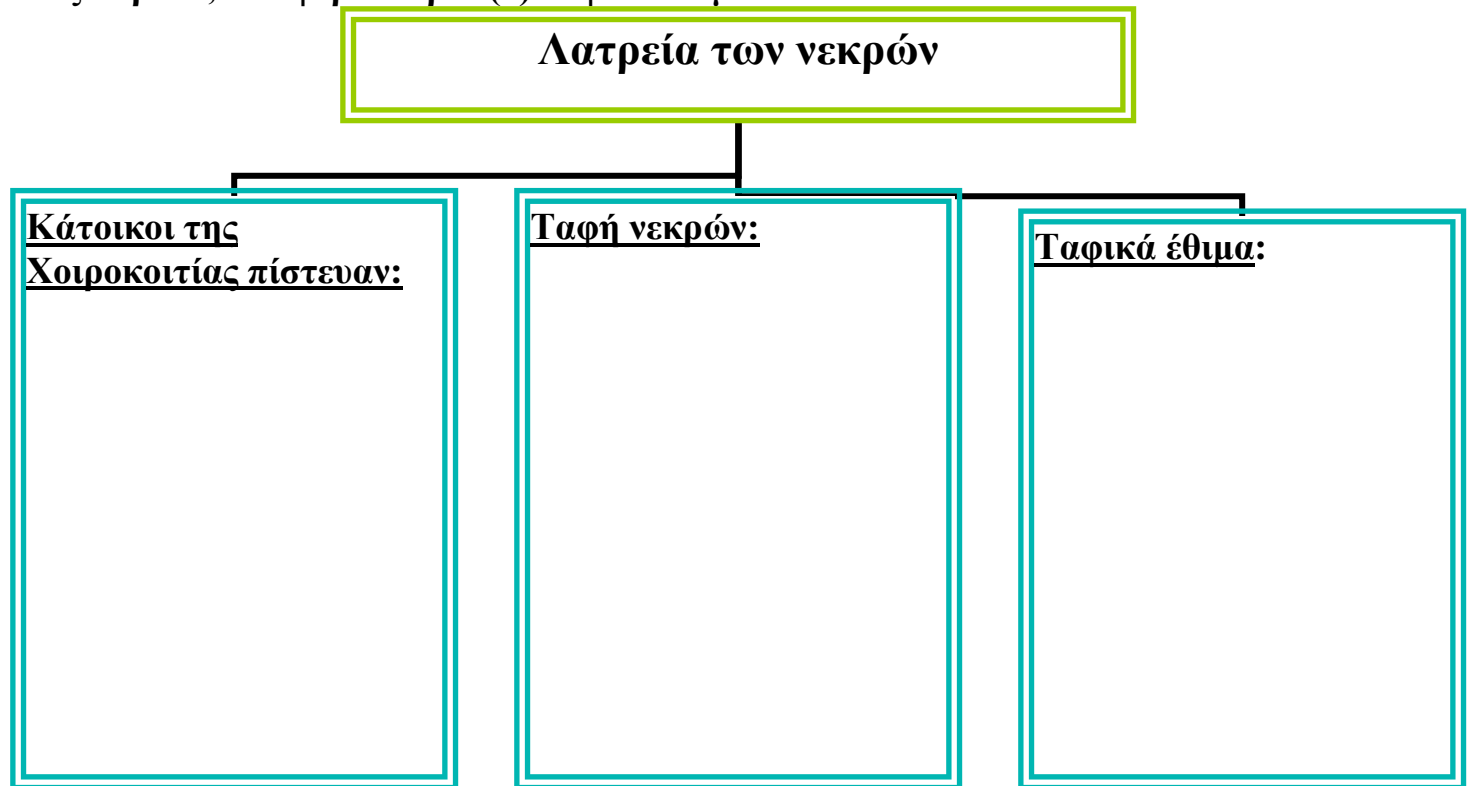
Σύγκριση: \_\_\_\_\_  
\_\_\_\_\_  
\_\_\_\_\_

### ΤΡΟΠΟΣ ΖΩΗΣ

1. Υπήρχε κοινωνική οργάνωση κατά τη Νεολιθική Εποχή; Ποια ήταν και από πού αντλούμε τις σχετικές πληροφορίες;


\_\_\_\_\_  
\_\_\_\_\_  
\_\_\_\_\_  
\_\_\_\_\_

2. Τι πίστευαν για τους νεκρούς τους οι κάτοικοι της Χοιροκοιτίας; Πού συνήθιζαν να τους θάβουν; Αναφέρετε τρία (3) ταφικά έθιμα.



Εργασία: Τι νομίζετε ότι εξυπηρετούσε η πυκνή διάταξη των σπιτιών στους νεολιθικούς οικισμούς;





Ουροματικό τείχος ή δρόμος

Οπή για έξοδο του καπνού

Τείχος από πλάθια

Μεσοπίττωρα

Κοφάνο

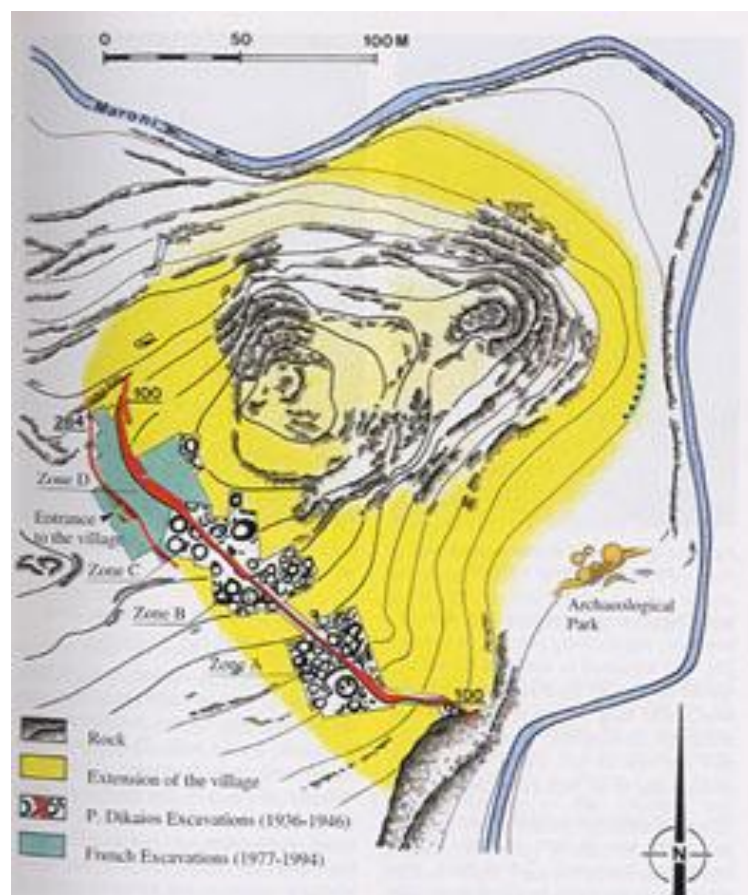
Είσοδος

Αιθινός τοίχος

Εστία



Αεροφωτογραφία από τη Χοιροκοιτία.



Γενικό πλάνο του οικισμού της Χοιροκοιτίας.



**Καλαβασός – Τέντα**

